


Tvary a velikosti

Čarami postupně pospojuj kruhy, čtverce, trojúhelníky i obdélníky. Pak všechny tvary vybarvi: nejmenší modrou, největší žlutou a prostřední oranžovou barvou.



KRISTYNA

$4 - 2 =$

$8 - 8 =$

$7 - 7 =$

$6 - 6 =$

$5 - 5 =$

$1 + 7 =$

$8 - 2 =$

$5 - 4 =$

$1 + 7 =$

$3 + 5 =$

$4 + 4 =$

$2 + 6 =$

$2 + 3 =$

$1 + 7 =$

$2 + 6 =$

$3 + 5 =$

$4 + 4 =$

$4 + 4 =$

$6 + 2 =$

$7 + 1 =$

$8 + 0 =$

Skús: $8 + 2 =$

$7 - 7 =$

$6 - 1 =$

$6 - 2 =$

$6 - 3 =$

$6 - 4 =$

$5 - 5 =$

$8 - 0 =$

$5 - 4 =$

$5 - 3 =$

$4 - 2 =$

$3 - 3 =$

$3 - 1 =$

$3 - 0 =$

$2 - 1 =$

$2 - 2 =$

$8 - 6 =$

$7 - 4 =$

$7 - 5 =$

$8 - 4 =$

$6 - 1 =$

$7 + 2 =$

$3 + 0 =$

$5 - 2 =$

$2 + 3 =$

$3 + 5 =$

$7 - 0 =$

$1 + 7 =$

$2 + 6 =$

$3 + 5 =$

$4 + 4 =$

$5 + 3 =$

$4 + 4 =$

$6 + 2 =$

$7 + 1 =$

$8 + 0 =$

$2 + 5 =$

$7 - 7 =$

$6 - 1 =$

$6 - 2 =$

$6 - 3 =$

$6 - 4 =$

$9 + 0 =$

$6 + 3 =$

MATEJ, ZDĚNA, KAČKA
KAMILA, MATYÁŠ

Dodawanie i odejmowanie do 20

Arkusz nr 5

$11 + 3 = \square$

$9 - 2 = \square$

$7 + 2 = \square$

$18 - 3 = \square$

$13 + 6 = \square$

$15 - 4 = \square$

$11 + 4 = \square$

$8 - 5 = \square$

$14 + 3 = \square$

$19 - 3 = \square$

$12 + 8 = \square$

$10 - 2 = \square$

$11 + 7 = \square$

$18 - 5 = \square$

$13 + 4 = \square$

$16 - 4 = \square$

$5 + 5 = \square$

$9 - 6 = \square$

$1 + 7 = \square$

$15 - 2 = \square$

ZŁĘTA, KONIA, KACKA

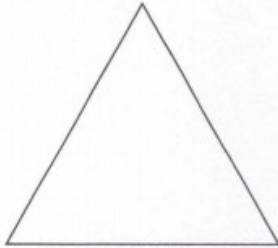
1. Pojmenuj obrazce




.....



.....



.....



.....

3. Vypiš alespoň 5 věcí, které mají tvar:

ČTVEREC

.....
.....
.....
.....
.....

KRUH

.....
.....
.....
.....
.....

OBDÉLNÍK

.....
.....
.....
.....
.....

TROJÚHELNÍK

.....
.....
.....
.....
.....

KEVIN, HONZA, KRISTÝNA

$4 - 2 =$

$8 - 8 =$

$7 - 7 =$

$6 - 6 =$

$5 - 5 =$

$1 + 7 =$

$8 - 2 =$

$5 - 4 =$

$1 + 7 =$

$3 + 5 =$

$4 + 4 =$

$2 + 6 =$

$2 + 3 =$

$1 + 7 =$

$2 + 6 =$

$3 + 5 =$

$4 + 4 =$

$4 + 4 =$

$6 + 2 =$

$7 + 1 =$

$8 + 0 =$

$7 - 7 =$

$6 - 1 =$

$6 - 2 =$

$6 - 3 =$

$6 - 4 =$

$5 - 5 =$

$8 - 0 =$

$5 - 4 =$

$5 - 3 =$

$4 - 2 =$

$3 - 3 =$

$3 - 1 =$

$3 - 0 =$

$2 - 1 =$

$2 - 2 =$

$8 - 6 =$

$7 - 4 =$

$7 - 5 =$

$8 - 4 =$

$6 - 1 =$

$3 + 0 =$

$5 - 2 =$

$2 + 3 =$

$3 + 5 =$

$7 - 0 =$

$1 + 7 =$

$2 + 6 =$

$3 + 5 =$

$4 + 4 =$

$5 + 3 =$

$4 + 4 =$

$6 + 2 =$

$7 + 1 =$

$8 + 0 =$

$2 + 5 =$

$7 - 7 =$

$6 - 1 =$

$6 - 2 =$

$6 - 3 =$

$6 - 4 =$

$9 + 0 =$

Skús: $8 + 2 =$

$7 + 2 =$

$6 + 3 =$

МАТЭЎ, МАТЭАЎ
КАЎКА, КАЎЛА


2. Vybarvi

Modře trojúhelník


Zeleně kruh

Žlutě čtverec

Červeně obdélník



4. Obtáhni podle pravítka, nebo pomocí kružítka




KLÁČKA, MATĚJ, ZDĚNA, KAMILA

7			9			4		
10			6			7		
8			3			9		
10			8			6		
7			9			10		
6			4			5		
8			7			8		
9			5			10		
3			8			6		
9			10			9		
5			8			7		

МАТЭЎ, МАТЧАЎ

Počítej barevné tenisáky

Spočítej vždy tenisové míčky od jedné barvy a výsledek zapiš do příslušného rámečku. Kterých míčků je tu nejvíce?




12





































Spočítej – zapiš

MATYA'S

Počítej a sčítej s méďou Pusíkem

Spočítej vždy tečky na jedné polovině dominové kostičky a zapiš jejich počet do rámečku tak, jak to udělal Pusík. Potom sečti obě číslice dohromady.




 		 	$\square + \square = \square$
$3 + 2 = 5$			
 		 	$\square + \square = \square$
$\square + \square = \square$			
 		 	$\square + \square = \square$
$\square + \square = \square$			
 		 	$\square + \square = \square$
$\square + \square = \square$			
 		 	$\square + \square = \square$
$\square + \square = \square$			
 		 	$\square + \square = \square$
$\square + \square = \square$			
 		 	$\square + \square = \square$
$\square + \square = \square$			

8

Počítání a sčítání

MATYÁŠ, KAMILA

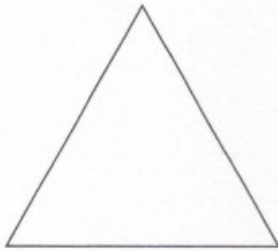
1. Pojmenuj obrazce




.....



.....



.....



.....

3. Vypiš alespoň 5 věcí, které mají tvar:

ČTVEREC

.....
.....
.....
.....
.....

KRUH

.....
.....
.....
.....
.....

OBDÉLNÍK

.....
.....
.....
.....
.....


TROJÚHELNÍK

.....
.....
.....
.....
.....

KEVIN, HONZA, KRISTÝNA

Vybarvi správnou pastelkou

Čtverce vybarvi červeně a obdélníky modře.












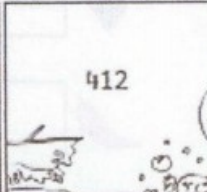


НАТЯА'Я

Schriftliche Subtraktion ohne Zehnerübergang

2

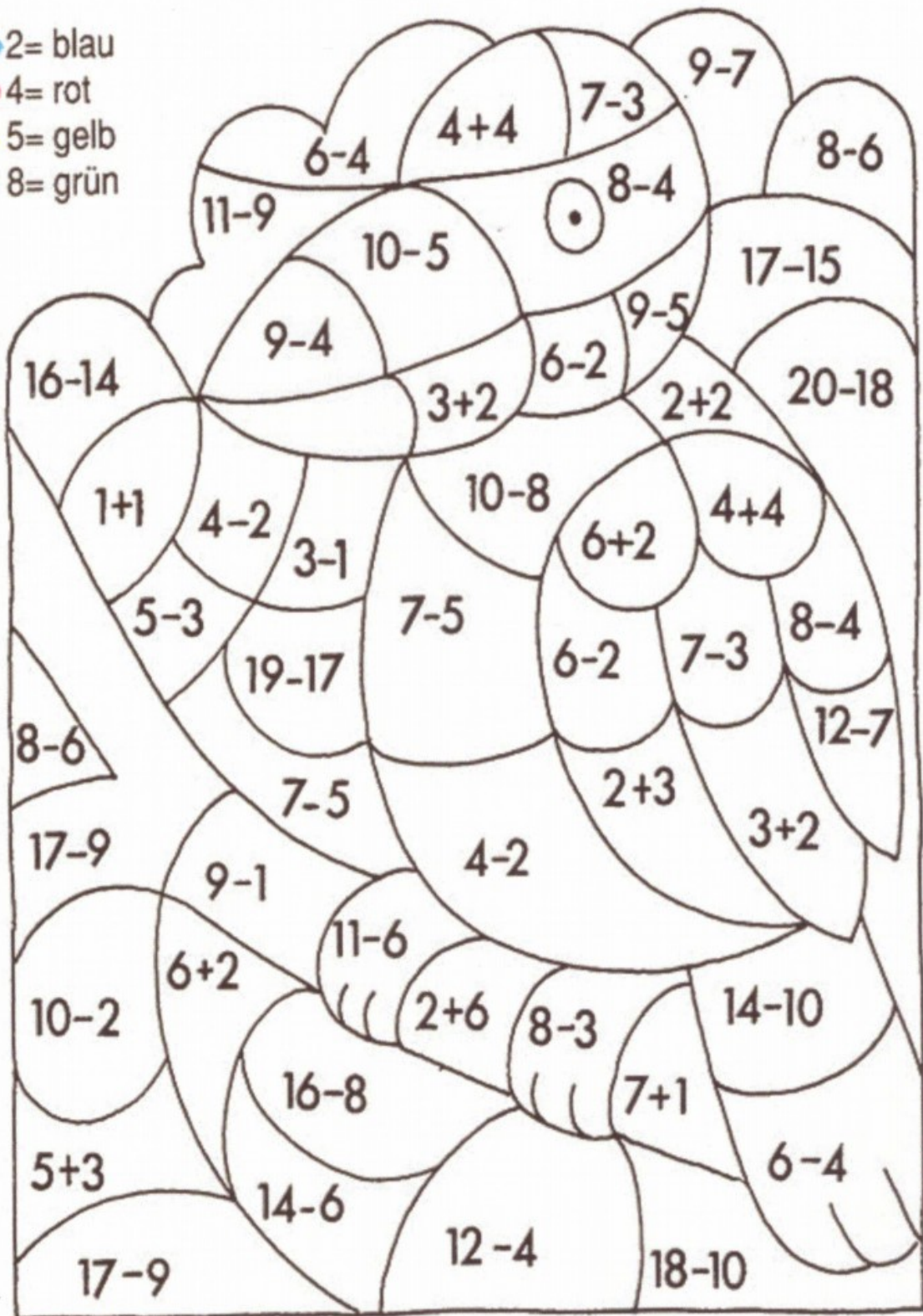
OBRAZKY NALEŽ DOBLE VÝPLEDKŮ

$\begin{array}{r} 936 \\ - 23 \\ \hline \end{array}$	$\begin{array}{r} 479 \\ - 67 \\ \hline \end{array}$	$\begin{array}{r} 569 \\ - 58 \\ \hline \end{array}$	$\begin{array}{r} 495 \\ - 62 \\ \hline \end{array}$
$\begin{array}{r} 788 \\ - 526 \\ \hline \end{array}$	$\begin{array}{r} 948 \\ - 635 \\ \hline \end{array}$	$\begin{array}{r} 645 \\ - 223 \\ \hline \end{array}$	$\begin{array}{r} 333 \\ - 120 \\ \hline \end{array}$
$\begin{array}{r} 702 \\ - 300 \\ \hline \end{array}$	$\begin{array}{r} 582 \\ - 311 \\ \hline \end{array}$	$\begin{array}{r} 663 \\ - 412 \\ \hline \end{array}$	$\begin{array}{r} 867 \\ - 333 \\ \hline \end{array}$

 422	 271	 534	 511
 213	 402	 313	 433
 251	 412	 262	 913

KRISTYNA

- 2= blau
- 4= rot
- 5= gelb
- 8= grün



КАЭКА, ХОНЗА