


Ahoj Adame,

posílám Ti další úkoly na tento týden. Nezapomeň přijít na konzultaci v úterý v 11,00 hod. Pomohu Ti s tím, co Ti dělalo potíže. Budu se na Tebe těšit. 😊

ČESKÝ JAZYK



1 Vybarvi stejné slabiky stejnou barvou.




Ka	KO	Ků	ka	Ko	Ky	ků	ky
ky	ko	Ka	Ky	ka	Ků	Ko	ků

2 Vytvoř slovo a spoj ho s obrázkem.



KO	ZA							SA	KO
	LO							MLÉ	
	SA							DALE	

3 Připoj, kde je:



- oko
- koleno
- pata
- záda
- nos
- ústa
- vlasý
- pupík

Přepiš slova do psacího písma a můžeš opět použít tabulku, která ti pomůže s písmenky, která jsi zapomněl.

a A	b B	c C	č Č
d D	ď Ď	e E	f F
g G	h H	ch Ch	i I
j J	k K	l L	m M
n N	ň Ň	o O	p P
r R	ř Ř	s S	š Š
t T	ť Ť	u U	v V
w W	y Y	z Z	ž Ž

1 Přepiš psacím písmem.

buben

mobil

basa

robot

beran

brouk

banán

zebra

brýle

zobák

Opiš a přepiš krásně:

K K

K K K K

K K

Klára

Kamil

Kaska


Káča má černou kočičku.

Namaluj tři věci, které začínají hláskou K.

**Přečti si věty a očíslej je od 1 do 6 tak, jak jdou správně za sebou.
Obrázek si vybarvi.**

35 *Seřad' věty správně za sebou.*

Nasnídám se a obleču.
Vyskočím z postele.
Budík mi zvoní v sedm hodin.
Umyji se.
Spěchám do školy.
Vyučování začíná v osm hodin.

A black and white line drawing of a young boy running to the right. He is wearing a long-sleeved shirt, trousers, and shoes. He is carrying a briefcase in his left hand. The drawing is simple and suitable for coloring.

Vybarvi a dokresli podle pokynů:

Žluté vlasy.

Modré oči.

Černé obočí.

Nos je široký.

Pusa je velká a červená.



V písance pracuj na str. 6, 7, 8

Matematika

1. Pokračuj v pracovním sešitě – v úterý zakroužkuj, která cvičení vyřešíš.

2. Vyřeš tato cvičení:

A. Vypočítej



$$12 + 7 = \square$$

$$8 - 6 = \square$$

$$10 - 3 = \square$$

$$13 + 4 = \square$$

$$20 - 15 = \square$$

$$16 + 1 = \square$$

$$4 + 9 = \square$$

$$15 - 14 = \square$$

B. Doplní výpočet.



$$10 - \square = 2$$

$$19 + \square = 20$$

$$\square + 11 = 19$$

$$\square + 11 = 15$$

$$20 - \square = 8$$

$$13 - \square = 9$$

$$\square + 9 = 17$$

$$\square + 7 = 14$$

C. Doplní znaménka $+$ nebo $-$.



$$12 \square 2 = 14$$

$$14 \square 4 = 18$$

$$13 \square 2 = 11$$

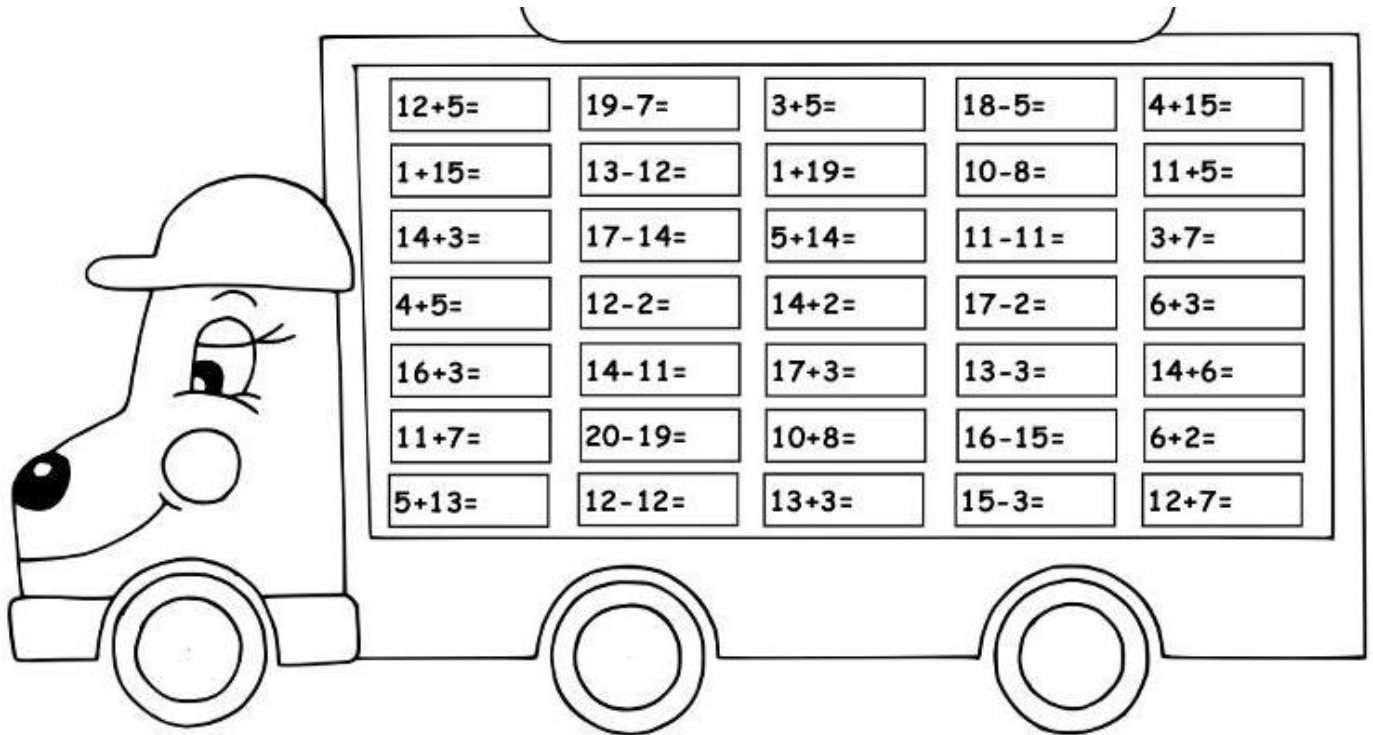
$$8 \square 3 = 11$$

$$8 \square 11 = 19$$

$$14 \square 6 = 8$$

$$18 \square 6 = 12$$

$$11 \square 7 = 4$$



Vypočítej tuto slovní úlohu:

Karel jel na výlet na kole. Ujel 16 Km.



Pepa vyjel později a ujel o 4 Km méně než Karel.

Kolik kilometrů ujel Pepa?

Výpočet:

Odpověď: _____

Spoj podle pravítka body a narýsuj tyto tvary:

ČTVEREC	OBDĚLNÍK	TROJÚHELNÍK
		

Pokračuj pomocí pravítka v započatém tvaru.

