


HMOTNOST


1. Doplň.

Hmotnost látek zjistíme _____. K vážení užíváme _____.

2. Co budeš vážit na uvedených vahách?



3. Napiš, jakou hmotnost mají tyto potraviny.



4. Doplň.

Potraviny nakupujeme v _____ nebo _____.

Hmotnost železa a uhlí uvádíme v _____.

(tunách, gramech, kilogramech)












5. Doplň hmotnost.

Hmotnost sešitu je _____ g. Hmotnost čítanky je _____ g.

Hmotnost pouzdra je _____ g. Hmotnost pastelek je _____ g.








Hmotnost mého těla je _____ kg.

1. Napiš do rámečku správnou značku (m, kg), která tam patří.

Měříme na metry – m	Vážíme na kilogramy – kg	
		
 <input type="checkbox"/>	 <input type="checkbox"/>	 <input type="checkbox"/>
 <input type="checkbox"/>	 <input type="checkbox"/>	 <input type="checkbox"/>
 <input type="checkbox"/>	 <input type="checkbox"/>	 <input type="checkbox"/>

2. Spoj čarou správnou váhu s obrázkem.

3. Spoj čarou správnou míru s obrázkem.

	<input type="checkbox"/> 15 kg <input type="checkbox"/> 5 kg			<input type="checkbox"/> 1 m <input type="checkbox"/> 2 m	
	<input type="checkbox"/> 83 kg <input type="checkbox"/> 24 kg			<input type="checkbox"/> 30 m <input type="checkbox"/> 1 m	