


MATEMATIKA:

Name: _____		1
Datum: _____		
15 - 1 = _____	18 - 8 = _____	16 - 3 = _____
15 - 5 = _____	19 - 7 = _____	12 - 1 = _____
16 - 6 = _____	15 - 3 = _____	14 - 3 = _____
13 - 2 = _____	19 - 2 = _____	18 - 5 = _____
11 - 1 = _____	18 - 2 = _____	12 - 2 = _____
13 - 1 = _____	19 - 6 = _____	19 - 9 = _____
14 - 4 = _____	17 - 5 = _____	14 - 2 = _____
16 - 2 = _____	19 - 8 = _____	18 - 7 = _____
17 - 6 = _____	17 - 3 = _____	18 - 6 = _____
14 - 1 = _____	15 - 4 = _____	16 - 1 = _____
16 - 4 = _____	17 - 4 = _____	17 - 1 = _____
15 - 2 = _____	18 - 4 = _____	17 - 7 = _____
13 - 3 = _____	18 - 1 = _____	16 - 5 = _____
19 - 3 = _____	17 - 2 = _____	19 - 1 = _____
19 - 4 = _____	18 - 3 = _____	19 - 5 = _____
19 - 2 = _____	15 - 5 = _____	15 - 3 = _____
11 - 1 = _____	13 - 2 = _____	14 - 2 = _____
18 - 2 = _____	19 - 9 = _____	19 - 7 = _____



Meine Rechenolympiade

1

$6 + 7 = \underline{\quad}$	$5 + 9 = \underline{\quad}$	$3 + 8 = \underline{\quad}$	$9 + 3 = \underline{\quad}$
$17 - 8 = \underline{\quad}$	$17 - 9 = \underline{\quad}$	$12 - 7 = \underline{\quad}$	$13 - 6 = \underline{\quad}$
$8 + 8 = \underline{\quad}$	$18 - 9 = \underline{\quad}$	$14 - 6 = \underline{\quad}$	$12 - 9 = \underline{\quad}$
$5 + 7 = \underline{\quad}$	$8 + 5 = \underline{\quad}$	$16 - 9 = \underline{\quad}$	$14 - 7 = \underline{\quad}$
$6 + 8 = \underline{\quad}$	$12 - 5 = \underline{\quad}$	$5 + 6 = \underline{\quad}$	$12 - 4 = \underline{\quad}$
$11 - 5 = \underline{\quad}$	$15 - 7 = \underline{\quad}$	$15 - 9 = \underline{\quad}$	$14 - 9 = \underline{\quad}$
$13 - 5 = \underline{\quad}$	$11 - 9 = \underline{\quad}$	$8 + 7 = \underline{\quad}$	$9 + 9 = \underline{\quad}$
$16 - 7 = \underline{\quad}$	$2 + 9 = \underline{\quad}$	$4 + 7 = \underline{\quad}$	$11 - 8 = \underline{\quad}$
$6 + 6 = \underline{\quad}$	$4 + 8 = \underline{\quad}$	$12 - 3 = \underline{\quad}$	$7 + 9 = \underline{\quad}$
$15 - 6 = \underline{\quad}$	$12 - 6 = \underline{\quad}$	$13 - 7 = \underline{\quad}$	$6 + 9 = \underline{\quad}$
$4 + 9 = \underline{\quad}$	$11 - 7 = \underline{\quad}$	$16 - 8 = \underline{\quad}$	$7 + 7 = \underline{\quad}$
$11 - 2 = \underline{\quad}$	$13 - 8 = \underline{\quad}$	$14 - 5 = \underline{\quad}$	$14 - 8 = \underline{\quad}$
$15 - 8 = \underline{\quad}$	$9 + 8 = \underline{\quad}$	$13 - 4 = \underline{\quad}$	$13 - 9 = \underline{\quad}$
$11 - 6 = \underline{\quad}$	$11 - 4 = \underline{\quad}$	$12 - 8 = \underline{\quad}$	$11 - 3 = \underline{\quad}$
$7 + 6 = \underline{\quad}$	$9 + 5 = \underline{\quad}$	$8 + 3 = \underline{\quad}$	$3 + 9 = \underline{\quad}$
$7 + 5 = \underline{\quad}$	$5 + 8 = \underline{\quad}$	$8 + 6 = \underline{\quad}$	$6 + 5 = \underline{\quad}$
$7 + 8 = \underline{\quad}$	$9 + 2 = \underline{\quad}$	$7 + 4 = \underline{\quad}$	$8 + 4 = \underline{\quad}$
$9 + 7 = \underline{\quad}$	$9 + 6 = \underline{\quad}$	$9 + 4 = \underline{\quad}$	$8 + 9 = \underline{\quad}$
$12 - 7 = \underline{\quad}$	$12 - 5 = \underline{\quad}$	$15 - 7 = \underline{\quad}$	$5 + 9 = \underline{\quad}$
$14 - 7 = \underline{\quad}$	$14 - 9 = \underline{\quad}$	$5 + 7 = \underline{\quad}$	$6 + 8 = \underline{\quad}$

Name: _____

Datum: _____

_____ /80 Punkten

Napiš, kolik je hodin.


Name: _____

Cat In The Hat Clock Work

Write the digital time for each clock.



PSANÍ:



me



mi



le



lu



po




pi



se

Přepiš jména.




















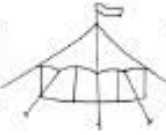
Alena	Klára
Bohdan	Marta
Cilka	Nora
Čenda	Oskar
Eliška	Roman
Hynek	Řehoř
Iva	Šárka
Jakub	Václav

Procvičování známých písmen. 1

ČTENÍ: Do rámečku napiš počet slabik daných obrázků.

HLÁSKY

7. K obrázkům do rámečku napiš hlásku, na kterou vyobrazené slovo začíná.

	<input type="text"/>		<input type="text"/>		<input type="text"/>
	<input type="text"/>		<input type="text"/>		<input type="text"/>
	<input type="text"/>		<input type="text"/>		<input type="text"/>
	<input type="text"/>		<input type="text"/>		<input type="text"/>
	<input type="text"/>		<input type="text"/>		<input type="text"/>
	<input type="text"/>		<input type="text"/>		<input type="text"/>

KuliFerda **7**



Základní škola Jedna radost Vám nabízí

SPOJ SLOVO A OBRÁZEK

LANO



MOST



STŮL



JOJO



AUTA



LES

MÍSA

MELOUN



NOTA

NOTY



SLON



Přečti a podle textu vybarvi obrázek.



TO JE KOCOUR TOM.
VLEZL DO BOTY.
BOTA JE ZELENÁ.
TOMOVI SE BOTA LÍBÍ.
MÁ RÁD ZELENOU.
TOM JE HNĚDÝ.
TOMŮV OCAS JE BÍLÝ.
TOM SE USMÍVÁ.
VEZMU SI BOTU DOMŮ, ŘÍKÁ SI.

HUDEBNÍ + ŘEČOVÁ VÝCHOVA: Text písně se nauč jako básničku.

JARO

Mírně Jiří Havel

D Hmi Emi7 A

Ku - dy - cho - dí ja - ro? Ze - le - ný - mi vrát - ky!

Emi7 G A

Stej - nou ces - tou za rok půj - de za - se zpát - ky.

F#mi Hmi Emi7 A

Zas bu - de mít ša - ty z jas - ných mod - rých vý - šek

F#mi Hmi Emi7 A

a vě - ne - ček zla - tý, ce - lý z pampe - li - šek.

D Hmi

Ku - dy cho - dí ja - ro? ze - le - ný - mi vrát - ky!

Emi G A D **Fine** ^{A7}1

Stejnou cestou za rok půj - de za - se zpát - ky k nám.

D.S. s repetící al Fine

PRACOVNÍ VYUČOVÁNÍ: Tvary vystříhej a nalep do předlohy.

