


Name

DOPUN CÍVELNE' RÁDY

Starfall.com

 Fill in the missing numbers to 100.

1		3	4	5	6	7		9	10	
	11	12	13	14		16	17	18	19	20
21	22		24	25	26		28	29		
31		33		35	36	37		39	40	
41	42	43	44	45		47	48		50	
51	52		54		56	57		59	60	
	62	63	64	65	66		68	69		
71	72	73		75		77	78		80	
81		83	84	85	86		88	89	90	
	92		94		96	97	98	99		

Rechnen mit Zehnerzahlen

1

$71 + 20 = \underline{\quad}$

$42 + 20 = \underline{\quad}$

$29 + 30 = \underline{\quad}$

$64 + 10 = \underline{\quad}$

$58 + 20 = \underline{\quad}$

$57 + 30 = \underline{\quad}$

$76 + 10 = \underline{\quad}$

$58 + 10 = \underline{\quad}$

$17 + 10 = \underline{\quad}$

$67 + 10 = \underline{\quad}$

$47 + 10 = \underline{\quad}$

$38 + 60 = \underline{\quad}$

$85 + 10 = \underline{\quad}$

$28 + 70 = \underline{\quad}$

$24 + 30 = \underline{\quad}$

$27 + 30 = \underline{\quad}$

$69 + 30 = \underline{\quad}$

$76 + 20 = \underline{\quad}$

$73 + 10 = \underline{\quad}$

$45 + 40 = \underline{\quad}$

$66 + 10 = \underline{\quad}$

$31 + 60 = \underline{\quad}$

$48 + 30 = \underline{\quad}$

$74 + 10 = \underline{\quad}$

$83 + 10 = \underline{\quad}$

$63 + 10 = \underline{\quad}$

$79 + 10 = \underline{\quad}$

$17 + 50 = \underline{\quad}$

$62 + 30 = \underline{\quad}$

$39 + 60 = \underline{\quad}$

$47 + 30 = \underline{\quad}$

$81 + 10 = \underline{\quad}$

$41 + 10 = \underline{\quad}$

$53 + 40 = \underline{\quad}$

$25 + 10 = \underline{\quad}$

$32 + 60 = \underline{\quad}$

$51 + 10 = \underline{\quad}$

$11 + 80 = \underline{\quad}$

$17 + 40 = \underline{\quad}$

$23 + 20 = \underline{\quad}$

$56 + 20 = \underline{\quad}$

$71 + 10 = \underline{\quad}$

$47 + 40 = \underline{\quad}$

$86 + 10 = \underline{\quad}$

$14 + 60 = \underline{\quad}$

$61 + 30 = \underline{\quad}$

$15 + 10 = \underline{\quad}$

$12 + 10 = \underline{\quad}$

$18 + 60 = \underline{\quad}$

$11 + 50 = \underline{\quad}$

$56 + 40 = \underline{\quad}$

$57 + 20 = \underline{\quad}$

$12 + 80 = \underline{\quad}$

$44 + 30 = \underline{\quad}$

Name

3. Zkontroluj, které příklady jsou správně, doplň tajenku.


$20 + 30 = 50$
$60 - 20 = 40$
$30 + 50 = 70$
$10 + 70 = 60$
$70 - 40 = 30$
$20 + 40 = 60$
$50 - 20 = 30$
$100 - 60 = 50$
$90 - 80 = 19$
$20 + 70 = 80$






















ANO	NE
M	T
A	U
S	T
R	E
M	H
A	C
T	V
W	I
K	B
I	A


tajenka: _____

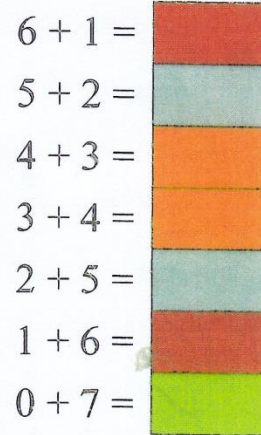
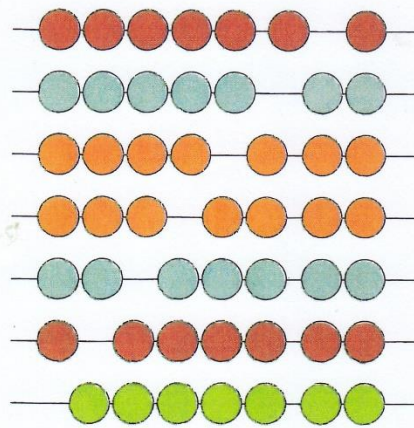
M













DOKRESLI A VYBARVI,



	1.	2.	3.	4.	5.	6.	7.
pondělí							
úterý							
středa							
čtvrtek							
pátek							
sobota neděle							


7
 pondělí
 úterý
 středa
 čtvrtek
 pátek
 sobota
 neděle



VYBARVI

Modré oko

Hnědý méďa

Růžový tulipán

Oranžová čepice

Žluté sluníčko

Šedé letadlo

Fialové hrozno



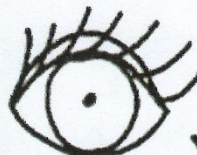
Červené jablíčko

Zelený lísteček


Černý mrak

Fialová chobotnice


Hnědá tužka




1. Doplň číslici, nebo dokresli ručičky.



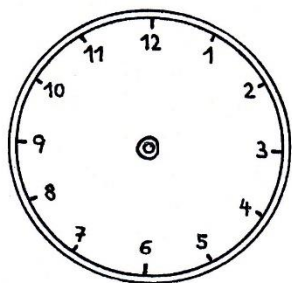
12 hod




3 hod



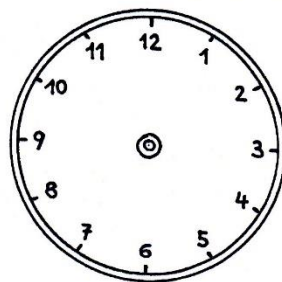
hod



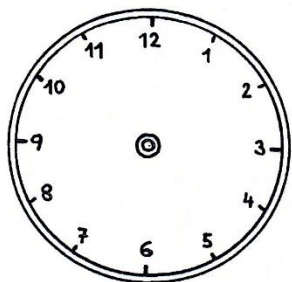
7 hod




hod



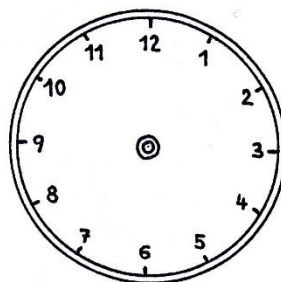
12 hod



11 hod



hod



4 hod

zelí
cibule
květák
~~růže~~
mrkev

pes
pila
koza
kočka
králík

auto
vlak
autobus
motorka
lavice

zedník
malíř
lékař
učitel
noviny

Nabídka slov:

tramvaj

rajče

holič

ovečka

obraz

Čti pečlivě a doplň správný obrázek: **1. JARO**

Na jaře začíná

více hrát. Začínají kvést

a

se vrací z teplých krajin. Také

vylétají z úlů a hledají sladkou

šťávu z květů. Ze zimního spánku se probouzí

a

Lidé začínají pracovat na



OBRAZKY VYSTŘIHNI A NALEP DO OKÉNKA

ZAHRADA NA JAŘE

Jarní práce na zahradě:

- ✿ RYTÍ
- ✿ HRABÁNÍ
- ✿ ZALÉVÁNÍ
- ✿ OKOPÁVÁNÍ
- ✿ PLETÍ
- ✿ SETÍ
- ✿ SÁZENÍ

- 1 a) Pojmenuj zahradnické náčiní.
b) Škrtni, co nepoužíváme při práci na zahradě.



- 2 Prohlédni si obrázky a řekni, co kdo dělá:



DAVID



ALENA



MIRKA




JAKUB



TOMÁŠ


- 3 a) Napiš, kdo to dělá. Tajenka ti napoví, co Alena zasela. b) Namaluj to:



- zalévá.
sází.
hrabe.
seje.
ryje.


HV Zaspívejte si písničku: „Na horách sejou hrách“.


VYSTŘIHNI A PLEP JAKO PUZZLE






Počítejte, na klauny se usmívejte.







$11 - 1 =$ $11 - 10 =$ $11 - 0 =$



$14 - 4 =$ $14 - 10 =$ $14 - 14 =$

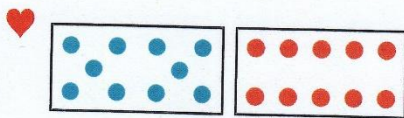


$15 - 5 =$ $15 - 10 =$ $15 - 15 =$



$16 - 6 =$ $16 - 10 =$ $16 - 0 =$


$2 - 1 =$	$3 - 2 =$	$4 - 2 =$	$4 - 3 =$	$5 - 0 =$
$12 - 1 =$	$13 - 2 =$	$14 - 2 =$	$14 - 3 =$	$15 - 0 =$



$10 + 10 =$

$20 - 2 =$	$20 - 8 =$
$20 - 4 =$	$20 - 10 =$
$20 - 6 =$	$20 - 15 =$

$20 - 1 =$	$20 - 5 =$	$10 - 8 =$	$10 - 9 =$	$10 - 10 =$
$20 - 3 =$	$20 - 7 =$	$20 - 8 =$	$20 - 9 =$	$20 - 10 =$



$5 + 5 + 5$

$5 + 5 + 5 + 5$

5 10 15 20

?	10		12		14		16		18		20
---	----	--	----	--	----	--	----	--	----	--	----