

**Český jazyk:** práce v písance – označena při konzultacích


Pracovní listy

**Matematika:** práce v počteníku – označeno při konzultacích

Pracovní listy


**Prvouka:** pracovní sešit str. 52 a 53




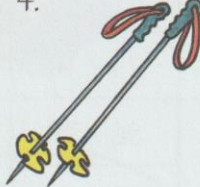

Pracovní list





 **Vylušti křížovku a namaluj, co jsme na horách vyrobili ze sněhu.**

1.   
 2.   
 3.   
 4.   
 5.   
 6.   
 7.   
 8.   
 9.

**Tajenka:**



1.  2.  3.  4.  5. 

6.  7.  8.  9. 



Domaluj dětem obličej podle popisu. Ani kvůli těmto věcem se kamarádům přeci nesmějeme.



Nosí brýle.



Má žlutou barvu kůže.



Má pihy.



Má kudrnaté vlasy.



Má hnědé oči.



Má velký nos.

- Napiš věty k těmto obrázkům. Nezapomeň začít velkým písmenem a ukončit větu tečkou. Piš psacím písmem.





1

Podtrhni, co je správně.



Slepice snáší




rukavice.

brambory.

vajíčka.

Ruce si myjeme




ručníkem.

mýdlem.

křídou.

Svítlí sluníčko.




Oblékneme si kabát.

Zatopíme v kamnech.

Půjdeme se opalovat.


Máme tělocvik.



Otevřeme si slabikář.

Půjdeme do tělocvičny.

Půjdeme na oběd.



2

Jaký nebo jaká je? Spoj věty s políčky.



Honza v pohádce zachránil princeznu.

Jana se bála tmy.

Petr se posmíval kamarádovi.

Helena se často učí a pomáhá.

Sára rychle šplhá.

Dan rozbil okno a přiznal se.

pilná
statečný
mrštná
bojácná
čestný
hloupý

3

Namaluj obrázek podle zadání.



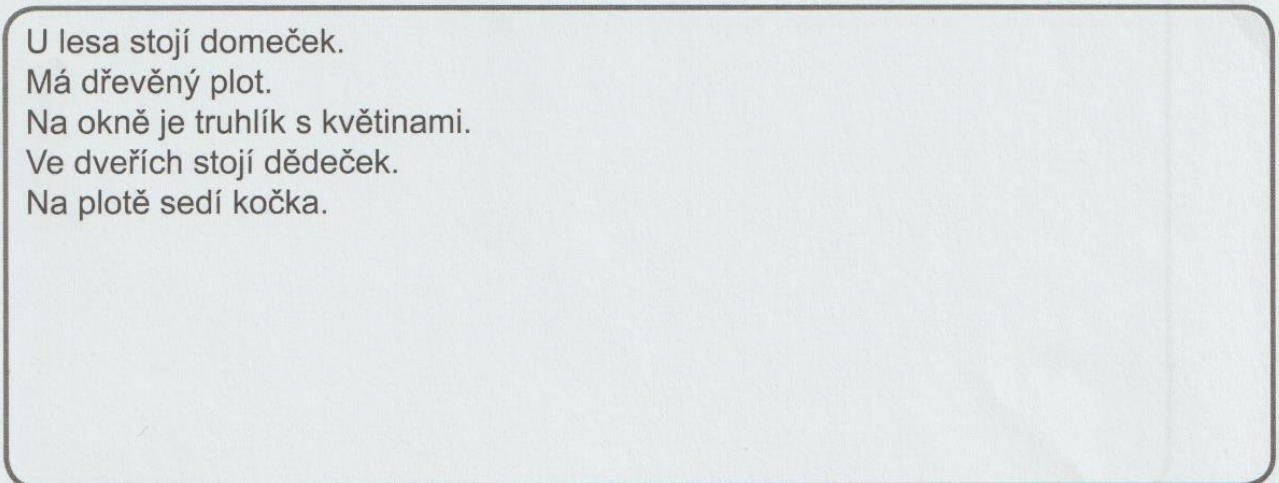
U lesa stojí domeček.

Má dřevěný plot.

Na okně je truhlík s květinami.


Ve dveřích stojí dědeček.

Na plotě sedí kočka.




Vypočítej a přiřaď ke správnému výsledku:

**POČÍTÁNÍ DO 20**

$17 + 2 =$		18
$10 + 10 =$		15
$12 + 3 =$		19
$14 + 4 =$		17
$20 - 4 =$		12
$2 + 15 =$		20
$17 - 5 =$		14
$12 + 2 =$		16

**POČÍTÁNÍ DO 20**

$20 - 7 =$		18
$17 + 3 =$		15
$18 - 3 =$		13
$5 + 13 =$		17
$15 + 4 =$		14
$18 - 1 =$		20
$19 - 5 =$		16
$3 + 13 =$		19

Vypočítej trojici čísel:

$3 + 4 + 7 =$	$2 + 7 + 8 =$
$6 + 6 + 4 =$	$5 + 2 + 5 =$
$8 + 3 + 2 =$	$9 + 3 + 1 =$
$3 + 4 + 6 =$	$6 + 6 + 7 =$
$1 + 6 + 9 =$	$3 + 7 + 7 =$
$4 + 4 + 7 =$	$5 + 5 + 8 =$

**Vyřeš slovní úlohu.**

V lese vyrostly **4 hříby**, **5 klouzků** a **7 muchomůrek**.

**Kolik hub vyrostlo v lese dohromady?**

HŘIBY \_\_\_\_\_

KLOUZKY \_\_\_\_\_

MUCHOMŮRKY \_\_\_\_\_

VÝPOČET:

**ODPOVĚĎ: V lese vyrostlo \_\_\_\_\_ hub.**

**Vybarvi tvary podle předlohy a spočítej kolik jich je v každém obrázku:**

The first row shows a robot-like figure. To its right is a legend with four colored shapes: a blue square, a yellow circle, a green triangle, and a red rectangle, each followed by a horizontal line for counting.

The second row shows two figures wearing conical hats. To their right is a legend with four colored shapes: a yellow square, a green circle, a red triangle, and a blue rectangle, each followed by a horizontal line for counting.

The third row shows a truck-like vehicle. To its right is a legend with four colored shapes: a green square, a yellow circle, a blue triangle, and a red rectangle, each followed by a horizontal line for counting.

1. Vybarvi pouze ty okvětní listy, v nichž je popsán děj odehrávající se na jaře.
2. Do každého listu namaluj jednu jarní květinu.

