


MATYÁŠI PROSÍM NAPIŠ SAŇ
ČÍSLICE

1. Napiš číslice 20.

20										
----	--	--	--	--	--	--	--	--	--	--

2. Napiš, kolik je kuliček na počítadle.



3. Nakresli kolečka.

20	
14	
20	

4. Spočítej a napiš číslici.

MATYÁŠI JSI ŠIKOVNÝ SPACÍTEL,
OBRAŽKY SAŇ A NAPIŠ SPRÁVNÝ
VÝSLEDEK

5. Doplň číselnou řadu.

16				20
15				19
13				
14				


18		20
15		17
13		15
	19	
16		



Z koupaliště jsme přišli domů, začalo se stmívat a na nebi vysvitly první hvězdy. Pinka vzpomínala na svou planetu a začalo se jí moc stýskat. Ufíci spočítali posbírané části talíře a šli spát. Zítra nás totiž čeká první prázdninové dobrodružství, jedeme k Terezčině babičce a dědovi na venkov.



Spoj čísla od 11 do 20 rovnými čarami. Poznáš, co je na obrázku?



13

11 12 14 15

20 16

18

19 17


11 12 14 15

20 16

18

19 17





MATHEMATICS DOTS 15 1980

