

## Číselná řada 1 - 20

1    2    3    4    5    6    7    8    9    10  
11   12   13   14   15   16   17   18   19   20

Které číslo do řady nepatří?

11   12   19   13   14   15   16   17  
20   19   18   12   17   16   15   14

Které číslo je nejmenší, které je největší?

16   11   15   19   20   10   14   18   9   13  
17   12   18   13   8   10   15   9   14   11   16


Jak je to správně?



11




12



14

1.

Namaluj šnečkovu cestu – spoj čísla od 1 do 20



2. Škrtni číslo, které nepatří do řady

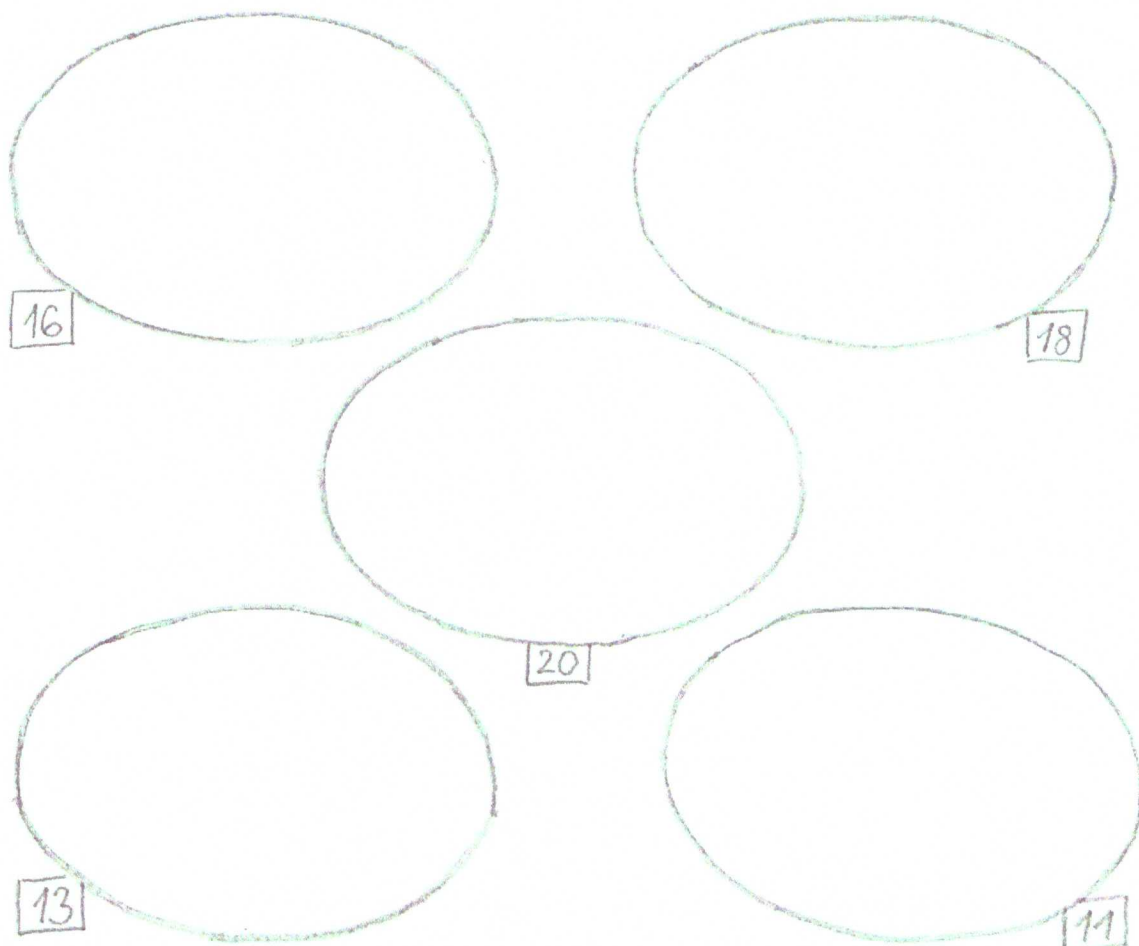
7 8 9 10 11 12 17 13 14 15

20 19 18 17 11 16 15 14 13

10 11 12 13 14 15 18 16 17


3.

Namaluj určený počet libovolných geometrických útvarů



4.

Vybarvi 14 tulipánů



5.

Porovnej počet prvků



6.

Porovnej čísla

$13 \circ 18$

$11 \circ 10$

$13 \circ 15$

$20 \circ 10$

$19 \circ 16$

$7 \circ 12$

$15 \circ 5$

$14 \circ 14$

$18 \circ 12$

$16 \circ 14$

$17 \circ 12$

$20 \circ 0$

7.

Rozlož čísla

$$\begin{array}{c} 13 \\ \wedge \\ 10 \end{array}$$

$$\begin{array}{c} 19 \\ \wedge \\ 10 \end{array}$$

$$\begin{array}{c} 11 \\ \wedge \\ 10 \end{array}$$

$$\begin{array}{c} 14 \\ \wedge \\ 10 \end{array}$$

$$\begin{array}{c} 17 \\ \wedge \\ 10 \end{array}$$

$$\begin{array}{c} 20 \\ \wedge \\ 10 \end{array}$$

$$\begin{array}{c} 15 \\ \wedge \\ 5 \end{array}$$

$$\begin{array}{c} 18 \\ \wedge \\ 8 \end{array}$$

$$\begin{array}{c} 16 \\ \wedge \\ 6 \end{array}$$

$$\begin{array}{c} 12 \\ \wedge \\ 10 \end{array}$$

$$\begin{array}{c} 19 \\ \wedge \\ 10 \end{array}$$

8.

Namaluj škole 4 komíny, 14 oken a do oken 11 květin. Kolik oken zůstalo prázdných? Je jich víc než komínů?

